

FORSCHERAUFTRAG 1 *



1 Liter = 1l

Wie viele Gläser kannst du mit dem Wasser,
das in dem Krug ist, füllen?
Gieße genau bis zum Strich!


Ich glaube, ich kann Gläser füllen.

Ich habe Gläser gefüllt.


Zeichne den Krug und die Gläser auf!

FORSCHERAUFTRAG 2 *

Wie viele Liter sind das?



Hier sind Liter.



Hier sind Liter.



10 l



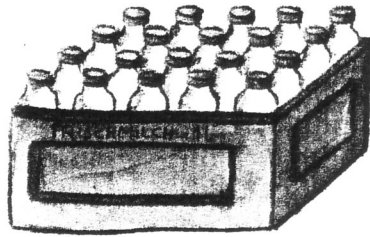
8 l

Hier sind Liter.



Hier sind Liter.

FORSCHERAUFTRAG 3 *



In der Kiste sind Flaschen.

Faris Eltern nehmen 3 Flaschen heraus,
Faris holt dann noch 2 Flaschen.

Wie viele Flaschen sind nun noch übrig ?

Es sind noch Flaschen in der Kiste.

Wie viele Liter sind das ?

Das sind noch Liter.



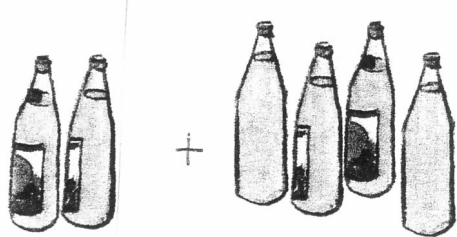

Zeichne nun , was du heute gerne
zum Trinken einkaufen würdest:

FORSCHERAUFTRAG 4 *

Was ist passiert?

Erzähle einem anderen Kind die Rechengeschichte!

Kannst du auch die Rechnung aufschreiben?



10 l



5 l



FORSCHERAUFTRAG 1 **

Christoph und Fabian kaufen ein.
Was steht auf der Einkaufsliste?



Getränke:

.....Milch

.....Apfelsaft

.....Orangensaft

.....Kakao

.....Mineralwasser

insgesamt:Liter

Schreib nun selber eine Einkaufsliste für Getränke!

Wie viele Liter wären das denn insgesamt?

Ich würde insgesamt Liter Getränke einkaufen.

FORSCHERAUFTRAG 2 **

In einer **großen Kiste** sind viele 1l - Flaschen
und zwar **4 Reihen**
und in **jeder Reihe 6 Stück**.


Rundherum ist die äußere Reihe bereits ausgetrunken.
Wie viele Flaschen sind noch voll?

Zeichne oder schreib auf, wie du
zu deinem Ergebnis kommst oder
was du dir dazu gedacht hast!

FORSCHERAUFTRAG 3 **

Beni und Niklas haben einen Versuch gemacht:

Mit dem Saft aus 1l Flasche konnten sie 6 Gläser füllen.



Wie viele Gläser können sie

- mit 2 Flaschen füllen?
- mit 3 Flaschen füllen?
- mit 5 Flaschen füllen?
- mit 8 Flaschen füllen?

Wie viele Flaschen müssten sie für die ganze Klasse kaufen,
wenn jedes Kind 2 Gläser Saft bekommen soll?

FORSCHERAUFTRAG 4 **

Sonja hat mit ihren Eltern am Samstag 12 l Saft eingekauft.
3 l trinken sie gleich am Nachmittag, weil es so warm ist!
Am Abend ist Sonja schon sehr müde.
Da stößt sie bei einer Flasche an – oje,
sie fällt hinunter und alles rinnt aus!

Welche Rechnung passt zu dieser Rechengeschichte?

☐ $12 + 3 + 1 = 14$

☐ $12 - 3 + 1 = 10$

☐ $12 - 3 = 9$ $9 - 1 = 8$

☐ $12 + 1 = 13$ $13 - 3 = 10$

Schreib eine Frage und eine Antwort dazu:

.....

.....

.....